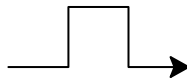


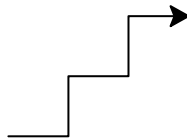
ΓΛΩΣΣΑ ΠΡΟΓΡΑΜΜΑΤΙΣΜΟΥ 1  
7η Εργαστηριακή Άσκηση

Ερωτήματα

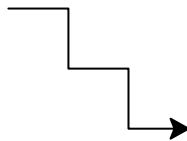
- 1) Χρησιμοποιήστε τον χελωνόκοσμο (turtle module) για να ζωγραφίσετε την παρακάτω εικόνα



- 2) Ζωγραφίστε τώρα την παρακάτω εικόνα



- 3) Τώρα χρησιμοποιήστε μια επαναληπτική διαδικασία for για να υλοποιήσετε την παραπάνω ζωγραφιά.
- 4) Φτιάξτε τη συνάρτηση stairs\_up(num) που να δημιουργεί μια σκάλα που ανεβαίνει num σκαλοπάτια.
- 5) Ζωγραφίστε τώρα την παρακάτω εικόνα



- 6) Φτιάξτε τη συνάρτηση stairs\_down(num) που να δημιουργεί μια σκάλα που κατεβαίνει num σκαλοπάτια.